



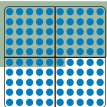


1 Ergänze.

| | | | |
|---|---|----|----------------|
|  |  | | |
|  | | 38 | |
|  | | | vierundsechzig |
|  | | | |

2 Schreibe die Zahlen mit Ziffern.

|||| | .

61

|||| || ..

||||

|||| || ...

|||

3 Male die Zahlen mit Strichen und Punkten als Zahlbild.

54

67

89

92

43

||||

4 Wie heißen die Zahlen?

Die Zahl hat
7 Einer und
3 Zehner.



Die Zahl hat
9 Zehner und
4 Einer.

Die Zahl ist
kleiner als
83. Sie hat
8 Zehner.
Sie ist eine
ungerade
Zahl.

Die Zahl ist
größer als
50. Sie ist
kleiner als
60. Sie hat
8 Einer.