




## 1 Wie heißen die Zahlen?

a)

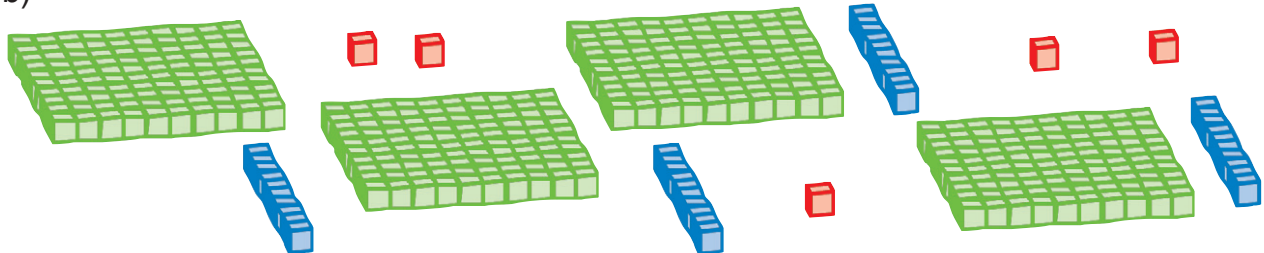


H	Z	E



Zahl: \_\_\_\_\_

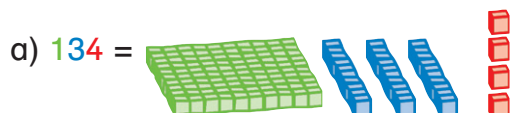
b)



H	Z	E

Zahl: \_\_\_\_\_

## 2 Stelle nun selber die Zahlen dar.



b) 275 =

c) 459 =

## 3 Ergänze die Tabelle.

Zahl	H + Z + E	Zerlegung
245	2 H + 4 Z + 5 E	200 + 40 + 5
		500 + 80 + 4
429		
	1 H + 9 Z + 0 E	
		600 + 2
	9 H + 6 Z + 9 E	
301		