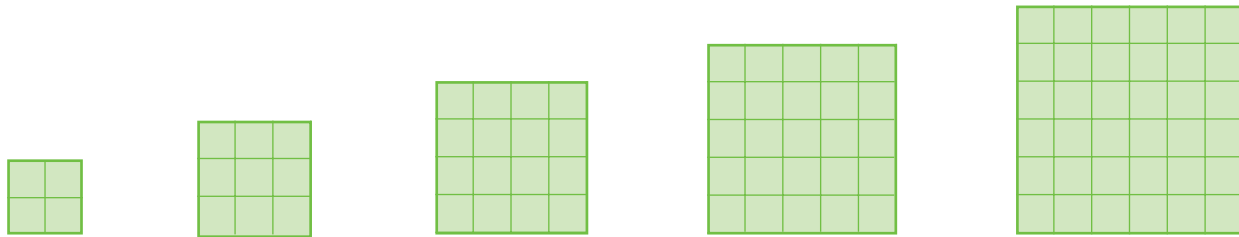


1 Schreibe die Malaufgabe dazu und rechne aus.



Diese Aufgaben heißen _____

2 Male die Ergebnisse von Quadrataufgaben orange an.


16	18	45	11	9
14	25	46	64	63
94	77	81	37	24
39	4	52	49	99
100	27	88	66	36



3 Rechne zuerst die Quadrataufgabe.

Die Quadrataufgabe wurde verändert.

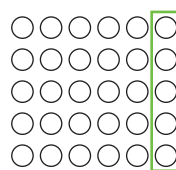
Rechne auch die neuen Aufgaben aus.



$$3 \cdot 3 = \underline{\quad}$$

$$4 \cdot 3 = \underline{\quad}$$


$$3 \cdot 4 = \underline{\quad}$$



$$5 \cdot 5 = \underline{\quad}$$

$$5 \cdot 6 = \underline{\quad}$$

$$6 \cdot 5 = \underline{\quad}$$



$$7 \cdot 7 = \underline{\quad}$$

$$7 \cdot 6 = \underline{\quad}$$

$$6 \cdot 7 = \underline{\quad}$$

4 Rechne zuerst die Quadrataufgabe.

$$8 \cdot 8 = \underline{\quad}$$

$$9 \cdot 8 = \underline{\quad}$$

$$8 \cdot 9 = \underline{\quad}$$

$$7 \cdot 8 = \underline{\quad}$$

$$8 \cdot 7 = \underline{\quad}$$

$$6 \cdot 6 = \underline{\quad}$$

$$7 \cdot 6 = \underline{\quad}$$

$$6 \cdot 7 = \underline{\quad}$$

$$5 \cdot 6 = \underline{\quad}$$

$$6 \cdot 5 = \underline{\quad}$$