


















## 1 Setze die Reihen fort.

- a)     \_\_\_\_\_
- b)       \_\_\_\_\_
- c)      \_\_\_\_\_

## 2 Setze die Zahlenfolgen fort.

- a) Regel: Addiere immer 7.

30, 37, 44, \_\_\_\_\_, \_\_\_\_\_, \_\_\_\_\_, \_\_\_\_\_, 86

- b) Regel: Immer die Hälfte.

12 800, 6400, 3200, \_\_\_\_\_, \_\_\_\_\_, \_\_\_\_\_, \_\_\_\_\_, 100

- c) Regel: Die beiden vorhergehenden Zahlen addiert, ergibt die folgende Zahl.

3, 4, 7, 11, \_\_\_\_\_, \_\_\_\_\_, \_\_\_\_\_, \_\_\_\_\_, 199

## 3 Finde die Regel und setze die Reihen fort.

- a) Regel: \_\_\_\_\_

6, 12, 24, \_\_\_\_\_, \_\_\_\_\_, \_\_\_\_\_, \_\_\_\_\_, 1536

- b) Regel: \_\_\_\_\_

130, 119, 108, \_\_\_\_\_, \_\_\_\_\_, \_\_\_\_\_, \_\_\_\_\_, 42

- c) Regel: \_\_\_\_\_

0, 5, 4, 9, 8, \_\_\_\_\_, \_\_\_\_\_, \_\_\_\_\_, \_\_\_\_\_, 20

## 4 Überlege dir selbst eine Regel und bilde eine passende Zahlenfolge.

Regel: \_\_\_\_\_

\_\_\_\_\_, \_\_\_\_\_, \_\_\_\_\_, \_\_\_\_\_, \_\_\_\_\_, \_\_\_\_\_