



1 Wie lang, wie hoch oder wie breit sind diese Dinge in Wirklichkeit? Verbinde.



2 m




30 cm



4 m




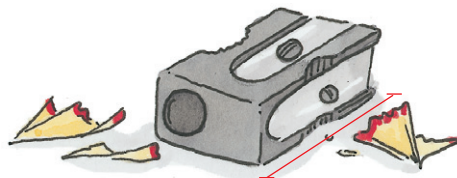
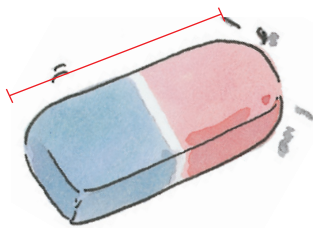
10 m



1 m

2

Schätze zuerst, dann miss genau. Trage deine Ergebnisse in die Tabelle ein.



Gegenstand	geschätzt	gemessen
Radiergummi		
Spitzer		
Buntmalstift		

3 Zeichne Strecken mit dem Lineal.

2 cm

12 cm

7 cm

5 cm

10 cm

