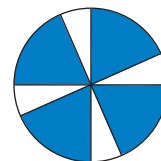
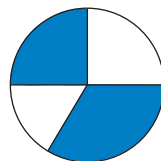
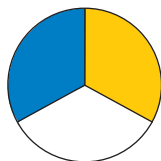
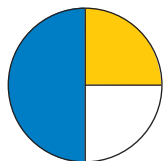


## 1 Kreuze an.

	unmöglich	wahr-scheinlich	sicher
Linus hat am 30. Februar Geburtstag.			
Saskia feiert an einem Montag ihren 9. Geburtstag.			
Das neue Jahr beginnt am 1. Januar.			
Peters Oma feiert am 2. November ihren 100. Geburtstag.			
Wenn ich ein Los ziehe, habe ich den Hauptgewinn.			
Wenn ich eine Münze werfe, fällt sie auf Wappen.			

## 2 Welche Kreisscheibe gehört zu welcher Strichliste? Verbinde.



blau	
weiß	

blau	
gelb	
weiß	

blau	
weiß	

blau	
weiß	

blau	
gelb	
weiß	

blau	
gelb	
weiß	

## 3 Luisa würfelt hundert Mal mit drei Würfeln und addiert die Augenzahlen. Welche Ergebnisse sind unmöglich? Welche sind wahrscheinlich und welche kommen vermutlich am häufigsten vor?



unmöglich: \_\_\_\_\_

wahrscheinlich: \_\_\_\_\_

am häufigsten: \_\_\_\_\_