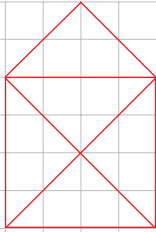
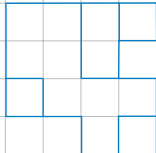


- 1** Zeichne die Figuren in doppelter Größe daneben (im Maßstab 2 : 1).
Zeichne Figur a) auch halb so groß (im Maßstab 1 : 2).


a)



b)



- 2** Schreibe das Wort „Salz“
a) halb so groß (Maßstab 1 : 2), b) doppelt so groß (Maßstab 2 : 1).



a)

b)