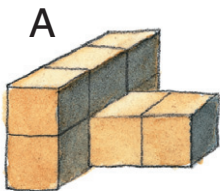
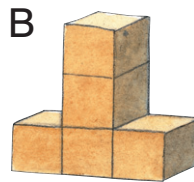


- 1** a) Wo erkennst du einen Quader? _____
- b) Wo erkennst du eine Kugel? _____
- c) Wo erkennst du einen Würfel? _____


2 Wie viele Würfel sind es? Zähle und trage ein.



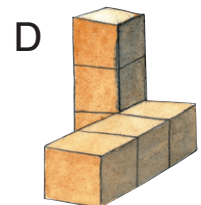
_____ Würfel



_____ Würfel



_____ Würfel



_____ Würfel

3 Ordne jedem Würfelbau in Aufgabe 2 seinen Bauplan zu.
Trage den Buchstaben ein.



