

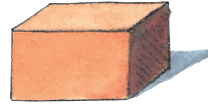




1 Welche Körperformen sind hier abgebildet? Beschrifte.













2 Körper gesucht.

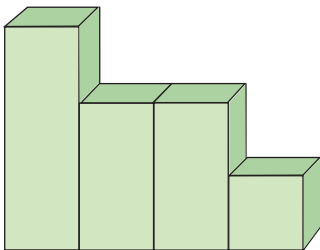
Mein Körper hat
8 Ecken, 12 Kanten
und 6 gleiche
Flächen.

Mein Körper hat
keine Ecken und
auch überhaupt
keine Kanten.

Mein Körper hat
nur 2 Flächen.

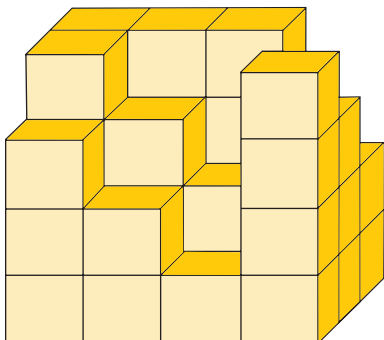


3 Körperansichten. Von welcher Seite siehst du den Körper?



von _____

4 Lars möchte einen Quader bauen, doch einige Steine fehlen. Wie viele?
Aus wie vielen Steinen besteht ein vollständiger Quader?



Es fehlen _____ Steine.

Ein vollständiger Quader besteht aus
_____ Steinen.