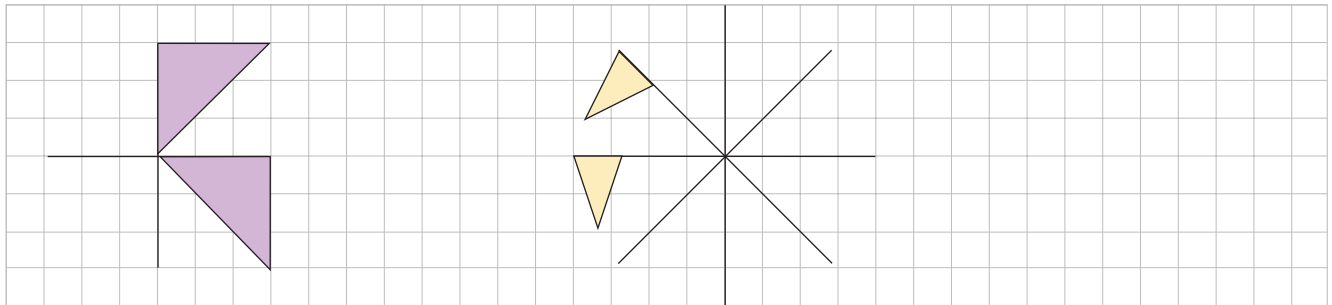


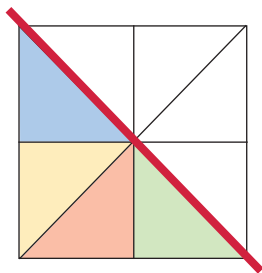
- 1** Welche der Figuren sind drehsymmetrisch, welche achsensymmetrisch?
Welche sind sowohl dreh- als auch achsensymmetrisch?



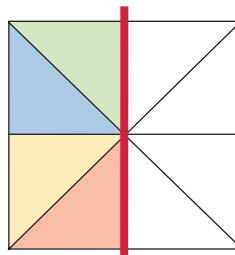
- 2** Ergänze zu drehsymmetrischen Figuren.



- 3** Färbe die Figur so, dass sie
a) nur achsensymmetrisch ist.



- b) nur drehsymmetrisch ist.



- 4** Zeichne das Spiegelbild.

