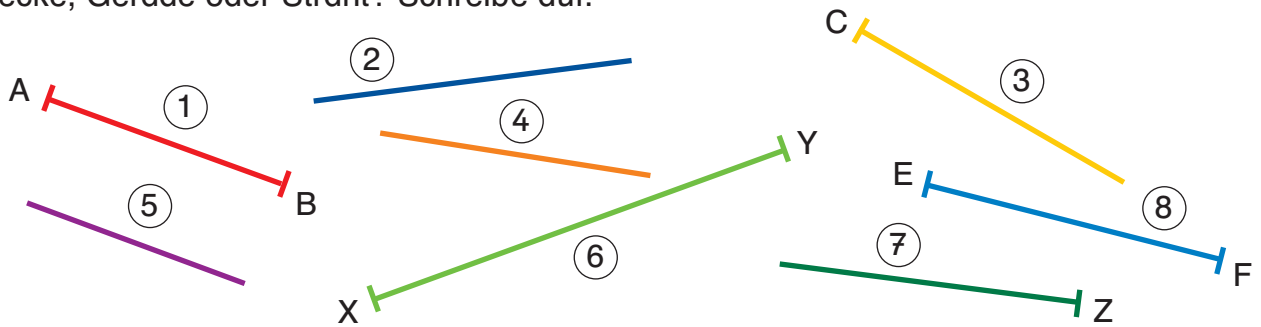


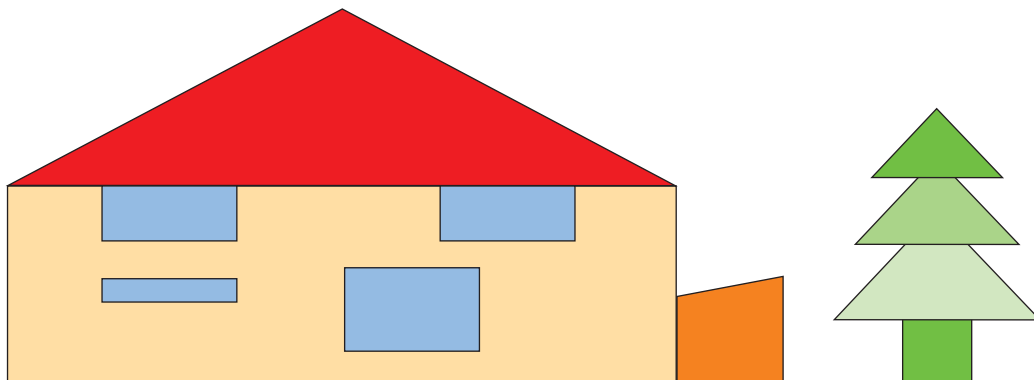
1 Strecke, Gerade oder Strahl? Schreibe auf.



a) Strecken: _____ Geraden: _____ Strahlen: _____

b) Miss die Länge der Strecken mit dem Geodreieck: _____


2 Kennzeichne alle rechten Winkel im Bild.



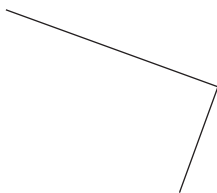
3 Zeichne mit deinem Geodreieck

a) ein Rechteck:
3 cm lang und 1,5 cm breit.

b) ein Quadrat mit einer
Seitenlänge von 2 cm.



c) Ergänze zum Rechteck.



d) Ergänze zum Quadrat.

