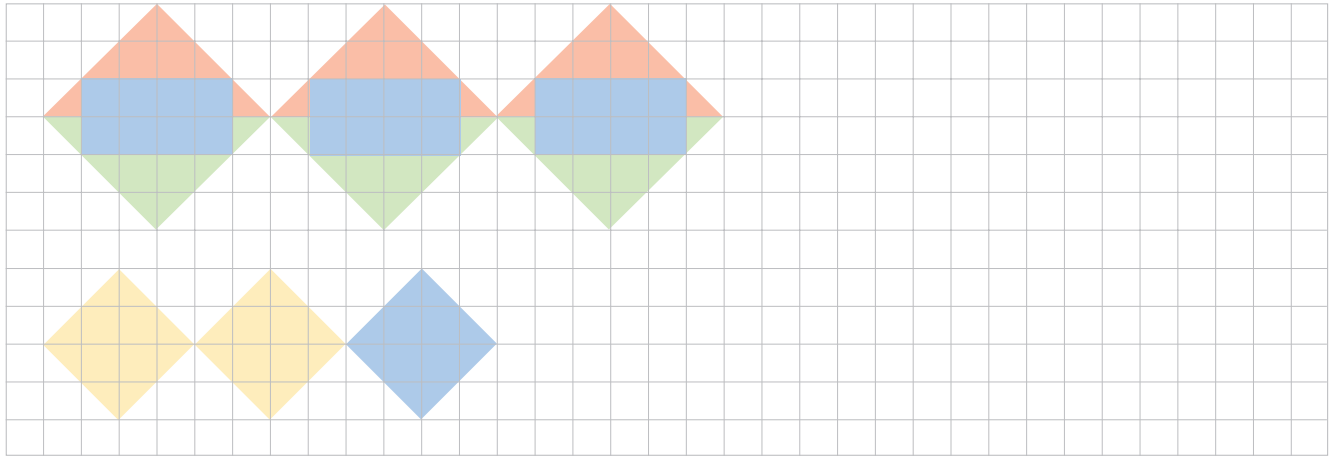


**1** Zeichne das Muster mit dem Geodreieck weiter.




**2** Zeichne zu den Geraden g und x jeweils drei senkrechte Linien.

g



x

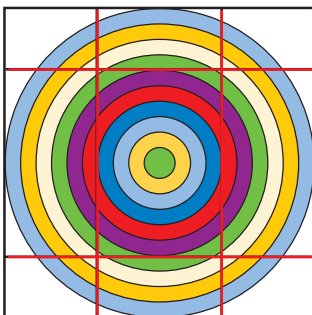


Zeichne zu der Geraden noch zwei Parallelen im Abstand von je 1,5 cm.

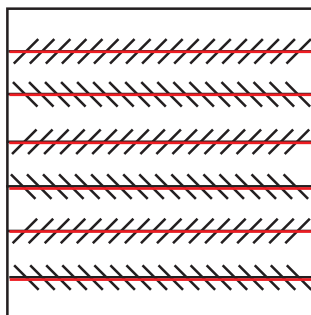


**3** Parallel oder nicht? Überprüfe mit dem Geodreieck.

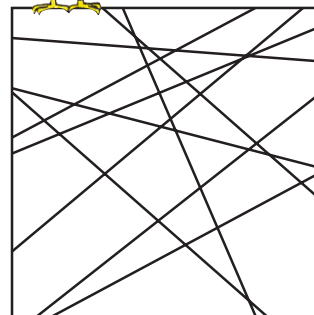
a)



b)



c)



Tipp: Nur zwei Geradenpaare sind bei 3 c) parallel. Färbe sie ein.