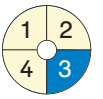

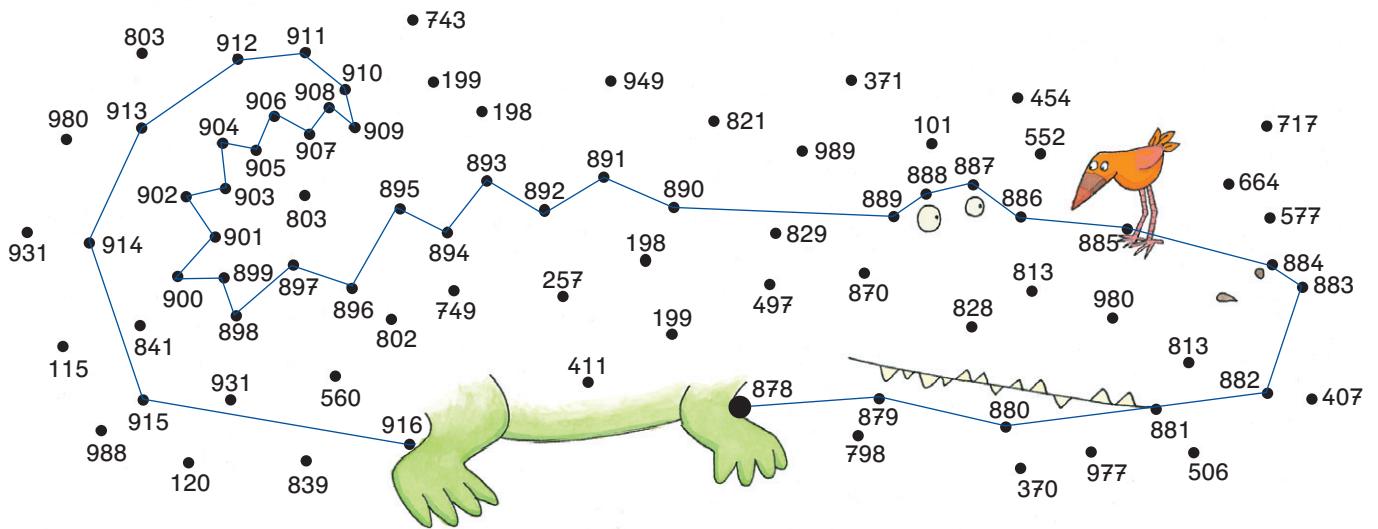




Nachbarzahlen



1 Verbinde die Punkte nach der Reihe. Beginne bei 878.



2 Trage die Nachbarzehner und Nachbarhunderter ein.

Nachbar-zehner	Zahl	Nachbar-zehner
370	375	380
980	989	990
550	555	560
100	101	110

Nachbar-hunderter	Zahl	Nachbar-hunderter
400	411	500
900	909	1000
600	678	700
100	192	200

3 Zahl gesucht!

Meine Zahl liegt zwischen 700 und 800.
Die Nachbarzehner heißen 760 und 770.
Die Einerzahl ist die Hälfte von 8.

Meine Zahl heißt 764.



Der kleinere Nachbarhunderter heißt 900.
Der kleinere Nachbarhunderter ist auch gleichzeitig
der kleinere Nachbarzehner.
Die Einerzahl ist ungerade, kleiner als 9 und größer als 5.

Meine Zahl heißt 907.