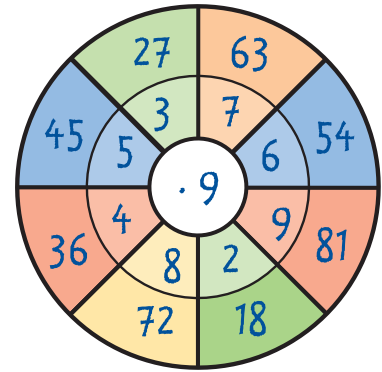
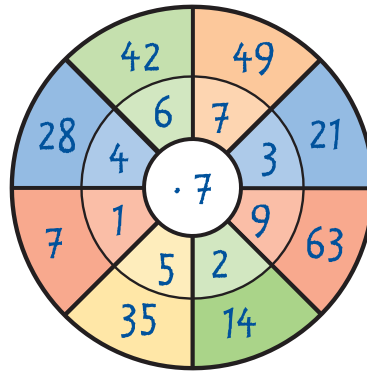
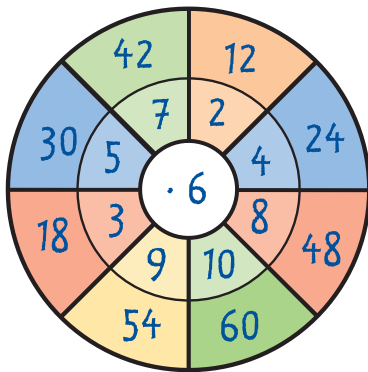


## 1 Fülle die Rechentabellen aus.

·	5	10	2	4	8	6
3	15	30	6	12	24	18
5	25	50	10	20	40	30
8	40	80	16	32	64	48
9	45	90	18	36	72	54

·	3	6	4	8	9	7
2	6	12	8	16	18	14
4	12	24	16	32	36	28
6	18	36	24	48	54	42
7	21	42	28	56	63	49

## 2 Ergänze die Rechenräder.



## 3 Bei einem **Maldreieck** ergeben die benachbarten Kreise das Produkt auf der Verbindungslinie. Ergänze die fehlenden Zahlen.

2 · 16 = 8

