

































## 1 Setze die Reihen fort.

- a)         
- b)            
- c)         

## 2 Setze die Zahlenfolgen fort.

- a) Regel: **Addiere immer 7.**

30, 37, 44, 51, 58, 65, 72, 79, 86

- b) Regel: **Immer die Hälfte.**

12 800, 6400, 3200, 1600, 800, 400, 200, 100

- c) Regel: **Die beiden vorhergehenden Zahlen addiert, ergibt die folgende Zahl.**

3, 4, 7, 11, 18, 29, 47, 76, 123, 199

## 3 Finde die Regel und setze die Reihen fort.

- a) Regel: Immer das Doppelte.

6, 12, 24, 48, 96, 192, 384, 768, 1536

- b) Regel: Subtrahiere 11.

130, 119, 108, 97, 86, 75, 64, 53, 42

- c) Regel: Immer abwechselnd 5 addieren und 1 subtrahieren.

0, 5, 4, 9, 8, 13, 12, 17, 16, 21, 20

## 4 Überlege dir selbst eine Regel und bilde eine passende Zahlenfolge.

- Regel: Kontrolliere deine Aufgabe selbst.