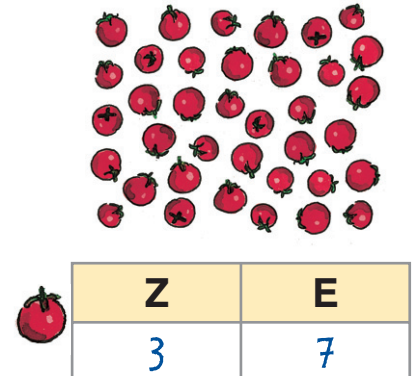
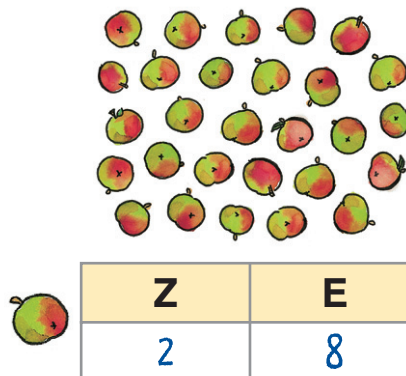
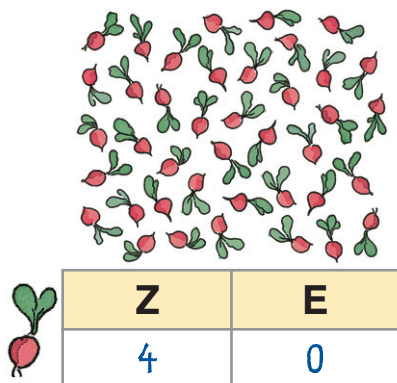




1 Wie viele Zehner (Z) und wie viele Einer (E)?



2 Ergänze.

vierundzwanzig

dreiundfünfzig

fünfundsechzig

neununddreißig

einundneunzig

siebenundachtzig

zweiundvierzig

achtundsiebzig

Zehner	Einer
2	4
5	3
6	5
3	9
9	1
8	7
4	2
7	8

3 Was gehört zusammen? Färbe mit der gleichen Farbe ein.

36

1H 0 Z 0 E

dreiundsechzig

4 Z 2 E

zweiundvierzig

6 Z 3 E

ein hundred

achtundfünfzig

sechsenddreißig

siebenundneunzig

2 Z 4 E

neunundsiebzig

97

vierundzwanzig

5 Z 8 E

7 Z 9 E