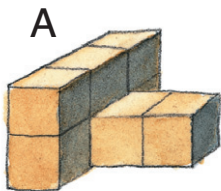
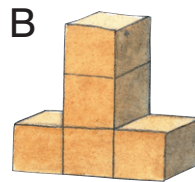


- 1 a) Wo erkennst du einen Quader? K, L
- b) Wo erkennst du eine Kugel? A, C, N
- c) Wo erkennst du einen Würfel? J, F


2 Wie viele Würfel sind es? Zähle und trage ein.



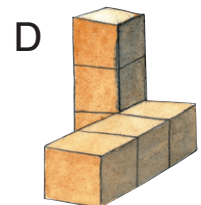
8 Würfel



5 Würfel



8 Würfel



6 Würfel

3 Ordne jedem Würfelbau in Aufgabe 2 seinen Bauplan zu.  
Trage den Buchstaben ein.

1	3	1
---	---	---

B

2	1
2	1
	1
	1

C

3	1
	1
	1

D

2		
2	1	1
2		

A