



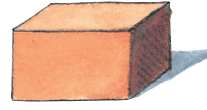
1 Welche Körperformen sind hier abgebildet? Beschrifte.



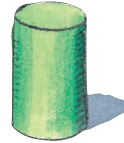
Pyramide




Würfel




Quader



Zylinder



Kegel



Kugel

2 Körper gesucht.

Mein Körper hat
8 Ecken, 12 Kanten
und 6 gleiche
Flächen.

Würfel

Mein Körper hat
keine Ecken und
auch überhaupt
keine Kanten.


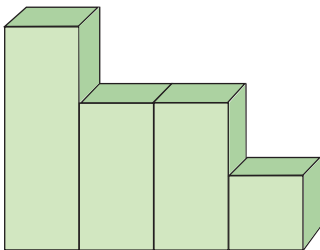
Kugel

Mein Körper hat
nur 2 Flächen.

Kegel

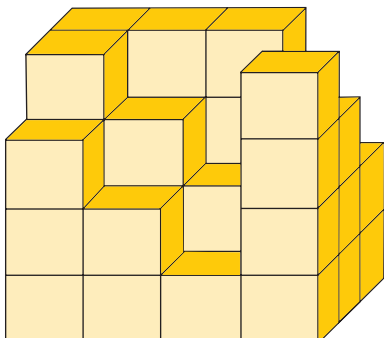


3 Körperansichten. Von welcher Seite siehst du den Körper?



von der Seite (links) der Seite (rechts) Draufsicht (von oben)

4 Lars möchte einen Quader bauen, doch einige Steine fehlen. Wie viele?
Aus wie vielen Steinen besteht ein vollständiger Quader?



Es fehlen 12 Steine.

Ein vollständiger Quader besteht aus

48 Steinen.