
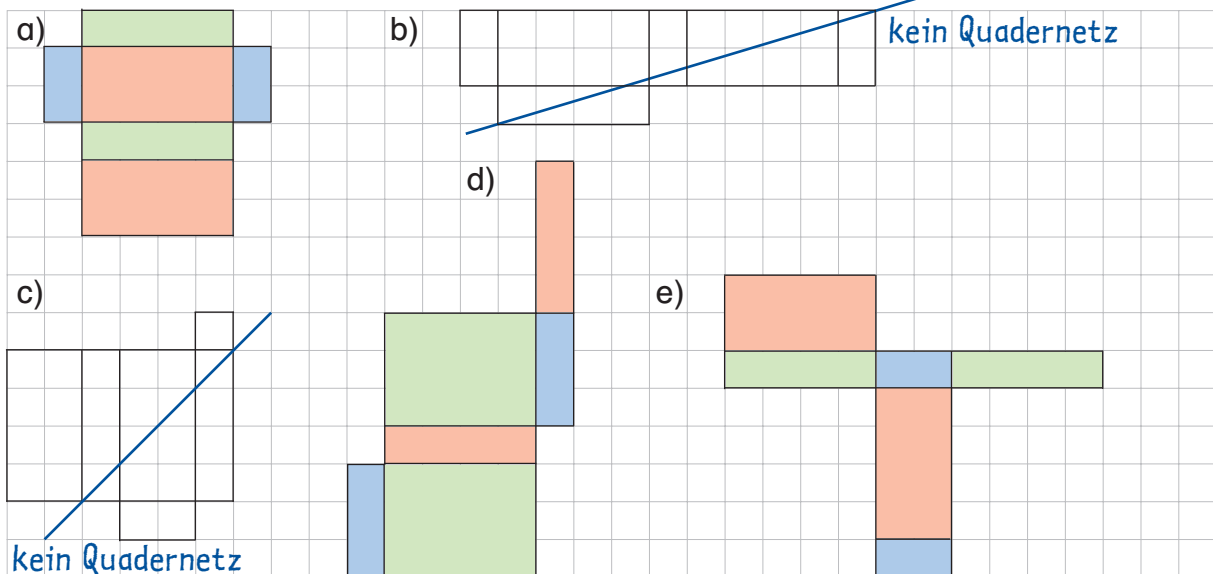


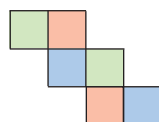
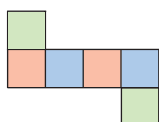
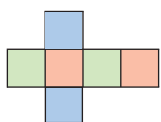
1 Welche der Netze sind Quadernetze?



Färbe die gegenüberliegenden Seiten mit der gleichen Farbe ein.



2 Ergänze die Würfelnetze. Jeweils eine Seite fehlt.



Färbe dann die gegenüberliegenden Seiten mit der gleichen Farbe ein.

3 Zeichne die fehlenden Würfelpunkte in die Netze ein.

Denke daran, dass die Summe der Punkte auf den gegenüberliegenden Flächen zusammen 7 ergeben muss.

