


- 1 Welche der Figuren sind drehsymmetrisch, welche achsensymmetrisch?
Welche sind sowohl dreh- als auch achsensymmetrisch?



Alle Figuren außer dem Herz und dem Mond

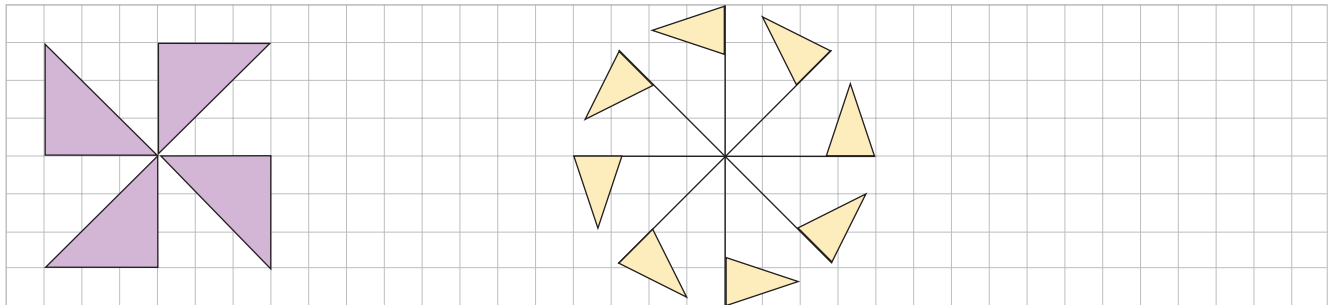
sind drehsymmetrisch.

Herz und Mond sind nur achsensymmetrisch.

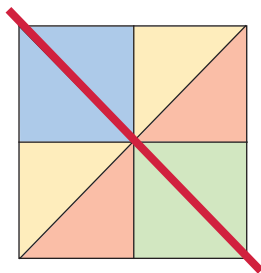
Die eingekreisten Figuren sind nur
drehsymmetrisch.

Die anderen 4 Figuren sind sowohl
achsen- als auch drehsymmetrisch.

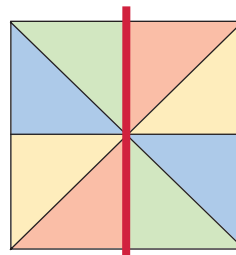
- 2 Ergänze zu drehsymmetrischen Figuren.



- 3 Färbe die Figur so, dass sie
a) nur achsensymmetrisch ist.



- b) nur drehsymmetrisch ist.



- 4 Zeichne das Spiegelbild.

