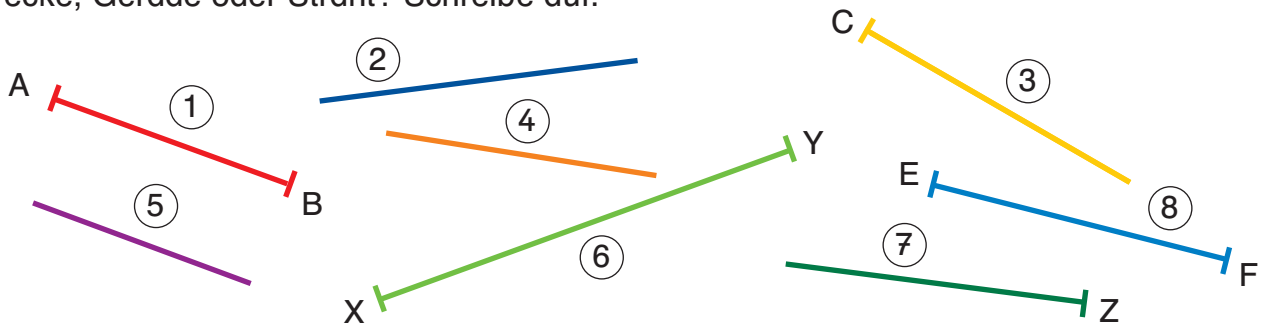


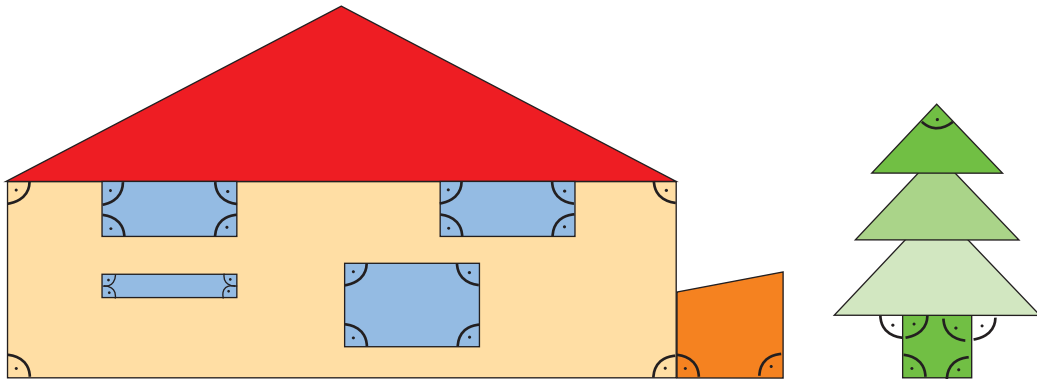
1 Strecke, Gerade oder Strahl? Schreibe auf.



a) Strecken: 1, 6, 8 Geraden: 2, 4, 5 Strahlen: 3, 7

b) Miss die Länge der Strecken mit dem Geodreieck:  $\overline{AB} = 3,3 \text{ cm}$ ,  $\overline{XY} = 5,8 \text{ cm}$ ,  $\overline{EF} = 4,0 \text{ cm}$

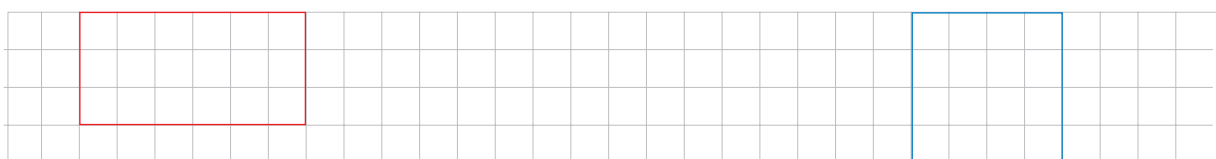
2 Kennzeichne alle rechten Winkel im Bild.



3 Zeichne mit deinem Geodreieck.

a) ein Rechteck:  
3 cm lang und 1,5 cm breit.

b) ein Quadrat mit einer  
Seitenlänge von 2 cm.



c) Ergänze zum Rechteck.

d) Ergänze zum Quadrat.

