



1 Schreibe die Zahlen auf.

a)  43

b)  34

c) 4 Z 5 E 45

d) sechsendachtzig 86

2 Trage die fehlenden Zahlen ein.

			36	37	38
		45			
		55			
	64				
71	72	73	74		

3 Fülle die Tabellen aus.

Vorgänger	Zahl	Nachfolger
25	26	27
36	37	38
58	59	60
79	80	81

Nachbar-zehner	Zahl	Nachbar-zehner
40	45	50
30	36	40
90	99	100
70	71	80

4 Ordne die Zahlen.

a) 47, 61, 36, 74, 17, 8, 23, 81

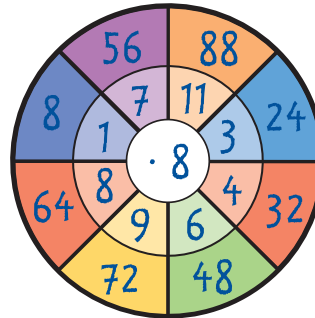
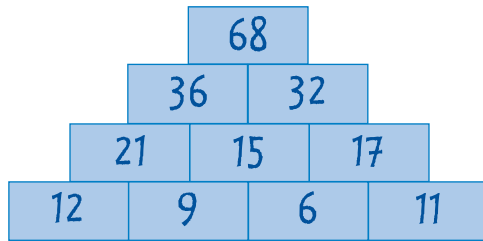
8 < 17 < 23 < 36 < 47 < 61 < 74 < 81

b) 26, 68, 62, 2, 82, 86, 28, 6

86 > 82 > 68 > 62 > 28 > 26 > 6 > 2



5 Fülle die leeren Felder aus.



:	3	5	7
12	4	2 R 2	1 R 5
14	4 R 2	2 R 4	2
35	11 R 2	7	5

6 Fülle das Zauberquadrat aus. **Immer 30!**

4	18	8
14	10	6
12	2	16

7 Kreuze alle passenden Kärtchen an.

a) $7 \cdot 5 >$ ☒ $8 \cdot 4$ ☐ $6 \cdot 8$

☐ $4 \cdot 10$ ☒ $9 \cdot 3$

b) $32 : 8 <$ ☒ $40 : 5$ ☒ $45 : 9$

☒ $24 : 3$ ☐ $18 : 6$



8 Setze die Reihen fort.

a) 8, 13, 18, 23, 28, 33, 38, 43, 48, 53, 58, 63, 68

b) 96, 93, 90, 87, 84, 81, 78, 75, 72, 69

9 Wie viel Geld war im Geldbeutel?



Im Geldbeutel waren 38 € 76 ct (38,76 €).

10 Fülle die Tabelle aus.

Preis	gegeben	zurück
 8 €	20 €	<u>12</u> €
 17 €	10 € 5 € 5 €	<u>3</u> €

11 Ordne der Länge nach.

5 m, 32 m, 5 cm, 1 m 6 cm, 17 cm, 68 m, 72 cm

5 cm < 17 cm < 72 cm < 1 m 6 cm < 5 m < 32 m < 68 m

12 Immer 1 Meter.

a) 37 cm + 63 cm

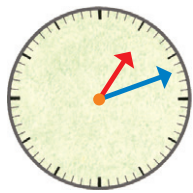
b) 46 cm + 54 cm

c) 16 cm + 84 cm

d) 75 cm + 25 cm



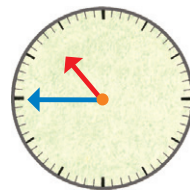
13 Wie spät ist es?



13.12 Uhr



1.12 Uhr



10.45 Uhr



22.45 Uhr



14 Ordne die Zeitdauerkärtchen von kurz nach lang.

4 Monate

20 Tage

1 Jahr

40 Sekunden

16 Stunden

3 Wochen

35 Minuten

40 Sekunden, 35 Minuten, 16 Stunden, 20 Tage, 3 Wochen, 4 Monate, 1 Jahr

15 Fülle das Kalenderblatt aus.

Die Klasse 2b möchte ins Theater gehen. Der Postbote brachte die Theaterkarten genau am Donnerstag, dem 27. Juni, in die Schule. Das war genau 5 Tage vor dem Theaterbesuch.

Wann geht die Klasse 2b ins Theater?



16 Die Uhr zeigt 14.15 Uhr.

Die Kindersendung läuft schon seit einer halben Stunde.

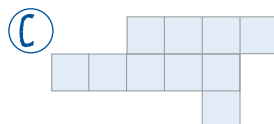
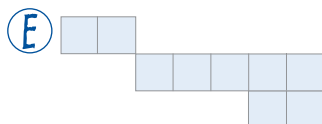
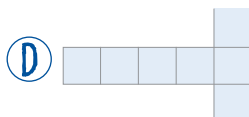
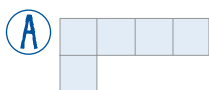
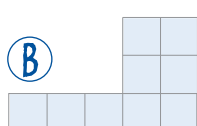
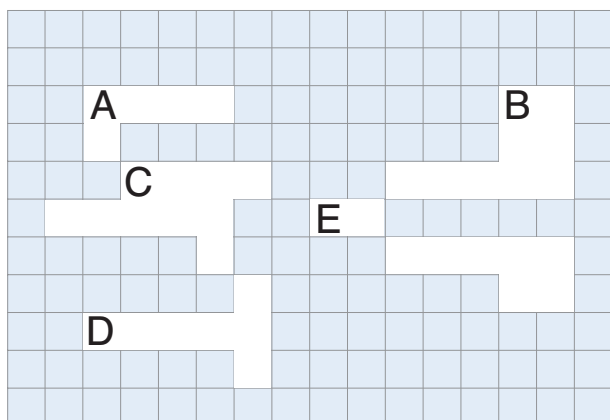
a) Wann hat sie begonnen? 13.45 Uhr

b) Sie dauert insgesamt 1 h 10 min. Um wie viel Uhr hört sie auf?

14.55 Uhr




17 Welche Form gehört wohin?

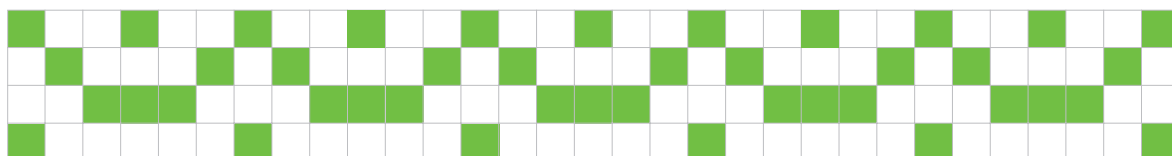


18 Setze die Muster fort.

a)



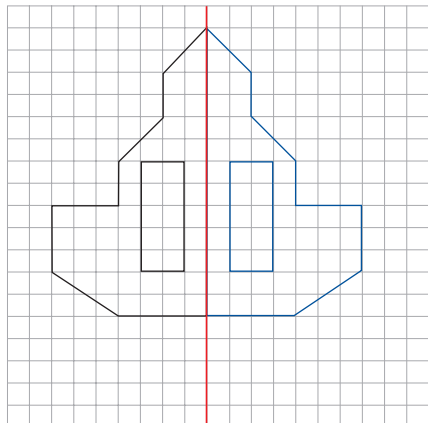
b)



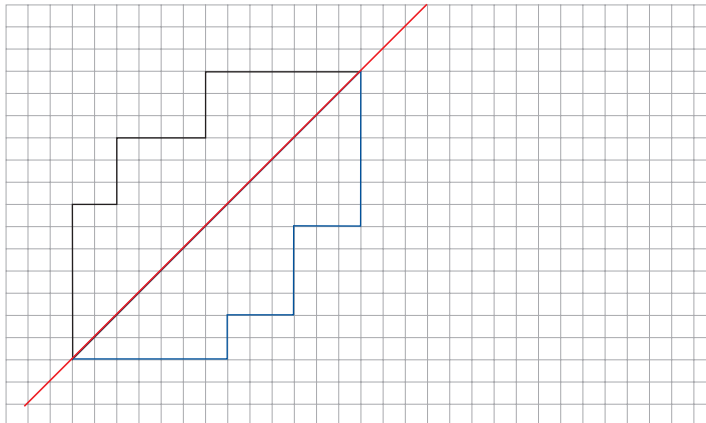


19 Spiegele die Figuren.

a)

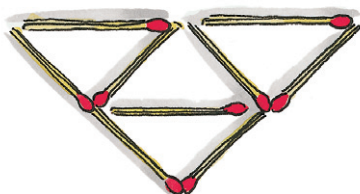


b)



20 Streichholzspiel

- a) Lege 3 Streichhölzer so dazu,
dass 4 gleiche Dreiecke entstehen.



- b) Wenn du 6 Streichhölzer wegnimmst,
erhältst du einen Vogelnamen.

