



1 Schreibe die Zahlen auf.

a)  _____

b)  _____

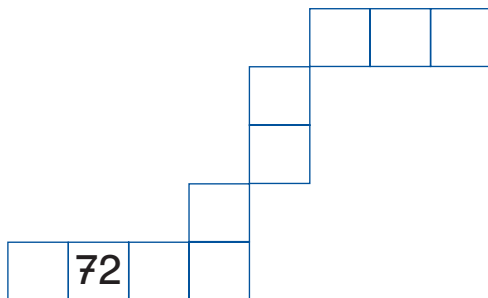
c) 4 Z 5 E _____

d) sechsendachtzig _____

muss ich
noch üben

☐

2 Trage die fehlenden Zahlen ein.

☐

3 Fülle die Tabellen aus.

Vorgänger	Zahl	Nachfolger
	26	
36		
		60
	80	

Nachbar- zehner	Zahl	Nachbar- zehner
	45	
	36	
	99	
	71	

☐

4 Ordne die Zahlen.

a) 47, 61, 36, 74, 17, 8, 23, 81

_____ < _____ < _____ < _____ < _____ < _____ < _____

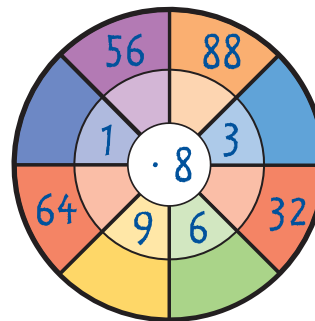
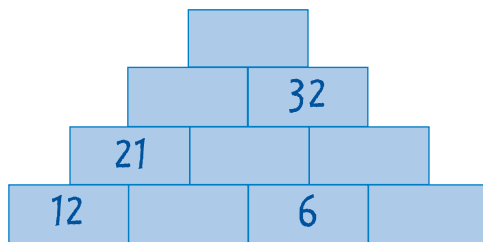
b) 26, 68, 62, 2, 82, 86, 28, 6

_____ > _____ > _____ > _____ > _____ > _____ > _____

☐



5 Fülle die leeren Felder aus.



:	3	5	
12			
		2 R 4	
35			5

muss ich
noch üben

☐

6 Fülle das Zauberquadrat aus. **Immer 30!**

	10	
12		16

☐

7 Kreuze alle passenden Kärtchen an.

- a) $7 \cdot 5 >$ ☐ $8 \cdot 4$ ☐ $6 \cdot 8$
- ☐ $4 \cdot 10$ ☐ $9 \cdot 3$

- b) $32 : 8 <$ ☐ $40 : 5$ ☐ $45 : 9$
- ☐ $24 : 3$ ☐ $18 : 6$

☐



8 Setze die Reihen fort.

a) 8, 13, 18, _____, _____, _____, _____, _____, _____, _____, _____, 68

b) 96, _____, _____, _____, _____, 81, _____, _____, _____, 69

muss ich
noch üben

☐



9 Wie viel Geld war im Geldbeutel?



Im Geldbeutel waren _____.

☐

10 Fülle die Tabelle aus.

Preis	gegeben	zurück
 8 €	20 €	_____ €
 17 €	10 € 5 € 5 €	_____ €

☐

11 Ordne der Länge nach.

5 m, 32 m, 5 cm, 1 m 6 cm, 17 cm, 68 m, 72 cm

_____ < _____ < _____ < _____ < _____ < _____ < _____

☐

12 Immer 1 Meter.

a) 37 cm + _____ cm

b) _____ cm + 54 cm

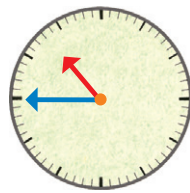
c) 16 cm + _____ cm

d) _____ cm + 25 cm

☐



13 Wie spät ist es?



muss ich
noch üben

☐

14 Ordne die Zeitdauerkärtchen von kurz nach lang.

4 Monate

20 Tage

1 Jahr

40 Sekunden

16 Stunden

3 Wochen

35 Minuten

☐

15 Fülle das Kalenderblatt aus.

Die Klasse 2b möchte ins Theater gehen. Der Postbote brachte die Theaterkarten genau am Donnerstag, dem 27. Juni, in die Schule. Das war genau 5 Tage vor dem Theaterbesuch. Wann geht die Klasse 2b ins Theater?

☐

16 Die Uhr zeigt 14.15 Uhr.

Die Kindersendung läuft schon seit einer halben Stunde.

a) Wann hat sie begonnen? _____

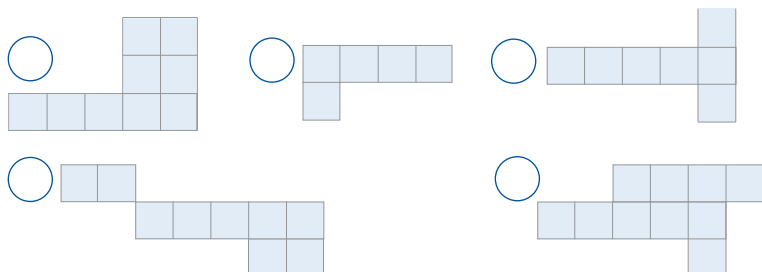
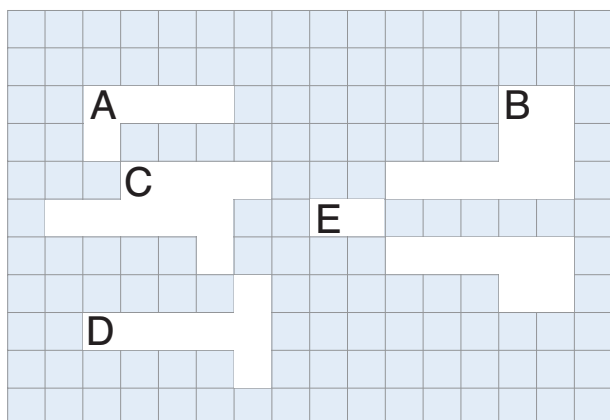
b) Sie dauert insgesamt 1 h 10 min. Um wie viel Uhr hört sie auf?

☐




17 Welche Form gehört wohin?

muss ich
noch üben




18 Setze die Muster fort.

a)



b)

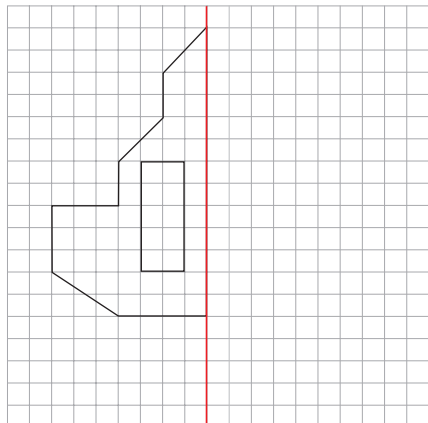




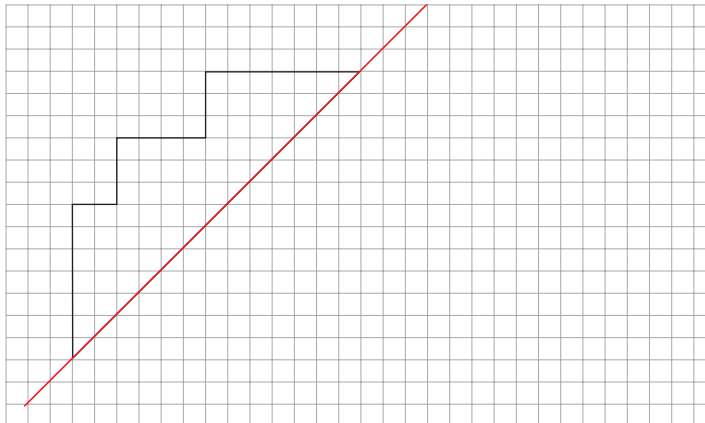
19 Spiegele die Figuren.

muss ich
noch üben

a)



b)



20 Streichholzspiel

- a) Lege 3 Streichhölzer so dazu,
dass 4 gleiche Dreiecke entstehen.



- b) Wenn du 6 Streichhölzer wegnimmst,
erhältst du einen Vogelnamen.

